



Molnár László

# TÖRTÉNELEM

## munkafüzet

*Interaktív 3D-animációkkal*



# 7



**NAT 2020**

A könyvet írta: **Molnár László**  
mesterpedagógus, vezetőtanár

Lektorálta: **Doba Mihály**  
mentortanár

Felelős szerkesztő: **Bozsik Katalin**

Rajzok: **Molnár Mónika**

Borítóterv: **Szőke András**

Tipográfia: **Molnár Mónika**

Nyelvi lektor: **Varró Sándor**

Műszaki szerkesztő: **Katona Csaba**



Minden jog fenntartva, beleértve a sokszorosítás, a mű bővített, illetve rövidített változata kiadásának jogát is. A kiadó írásbeli hozzájárulása nélkül sem a teljes mű, sem annak része semmiféle formában nem sokszorosítható.



A kötet hátsó borítójának belsején egyedi kód található, amelyet a [www.mozaweb.hu](http://www.mozaweb.hu) oldalon aktiválhatsz. Az aktiválás hozzáférést biztosít a kiadvány elektronikus változatához a honlapon található feltételekkel.

ISBN 978 963 670 003 4

Copyright Mozaik Kiadó – Szeged, 2024

## Kedves Időutazók!

Reméljük, hogy az elmúlt két tanévben a történelem tantárgy az egyik kedvencetekké vált! Eddigi tanulmányaitok során megismerhettétek az emberiség történelmének az őskortól a 19. század közepéig terjedő időszakát.

A 7. osztályban új kalandok várnak ránk. Képzletbeli időgépünk készen áll arra, hogy visszarepítsen minket a múltba. Újra bebarangoljuk Földünket, megismerve mintegy száz év legfontosabb eseményeit, valamint azok szereplőit és helyszíneit.


Természetesen ebben a tanévben sem leszünk magányos utazók. HeuRéka és KutaTóni egész évben arra vártak, hogy új, izgalmas kalandokban vehessenek részt velünk. Amíg ti pihentetek a vakáció során, addig ők azon ügyködtek, hogy felkészítsék az időgépünket a 7. osztályos kalandokra.

Ez a munkafüzet is időutazó napló, amelyben minden időugráshoz tartozik egy-egy feladatsor. A naplóba feljegyezhetitek a legfontosabb dolgokat, és bármikor vissza is kereshetitek azokat. Amelyik feladat mellett a **3D** jel szerepel, ott a munkafüzet digitális változatában megnézhetek egy vagy több kapcsolódó háromdimenziós jelenetet. (A munkafüzet digitális változatát a tankönyvéhez hasonlóan a [www.mozaweb.hu](http://www.mozaweb.hu) oldalon aktiválhatjátok, amelyhez a kiadvány hátuljában levő nyomtatott kód szükséges.)

Időgépünk kapitánya ebben a tanévben is szeretné még izgalmasabbá tenni az időutazásokat, ezért újra nemes versengésre hívja ifjú útítársait. Közös kalandjaink során IdőPontokat gyűjthettek. Minden feladatsorhoz tartozik ponttáblázat, a munkafüzet végén pedig találtok egy összesítő táblázatot (IdőPontGyűjtő). Jegyezzétek fel a szerzett IdőPontokat mindkét helyre! A tanév végén összesítsétek az IdőPontjaitokat! Ha ügyesen és szorgalmasan gyűjtöttétek őket, akkor a kapitány 8. osztályos időutazóvá, valamint tiszteletbeli segédpilótává léptet majd elő benneteket.

De ne ugorjunk ennyire előre az időben – inkább ugorjunk hátra!

Öveket becsatolni, kezdődik a visszaszámlálás!



## 5. Az ipari forradalom térhódítása


A 19. és a 20. század fordulója nemcsak politikai, hanem tudományos-technikai értelemben is rendkívül mozgalmas volt. Újabb időutazásunk során bepillantunk a korszak zseniális mérnökeinek műhelyeibe, és megismerhetjük korszakalkotó találmányaikat is.



### 1. Rejtett

a) Írd be a meghatározásoknak megfelelő kifejezéseket a rejtvénybe!

1. Az első ipari forradalom idején ez hajtotta a gépeket.
2. A robbanómotorokat ennek a származékai működtetik.
3. Ebből az országból indult ki az első ipari forradalom.
4. A Ford autógyár ennek a segítségével érte el a tömegtermelést.
5. Hatalmas, egy-egy iparágat uraló vállalat.
6. Német mérnök és autógyáros (vezetéknev).



Látogass el a Ford autógyárba a mozaWeb 3D-jelenetének segítségével! Melyik városban állt az első gyár?

b) Hogyan kapcsolódik a megfejtésben szereplő személy (... József) az ipari forradalom korához?

.....



### 2. OszlopOk

A diagram néhány ország nyersvastermelésének alakulását mutatja.

a) Melyik ország termelte a legtöbb nyersvasat 1870-ben?

.....

b) Melyik ország termelte a legtöbb nyersvasat 1913-ban?

.....

c) Melyik ország termelése nőtt a legnagyobb mértékben?

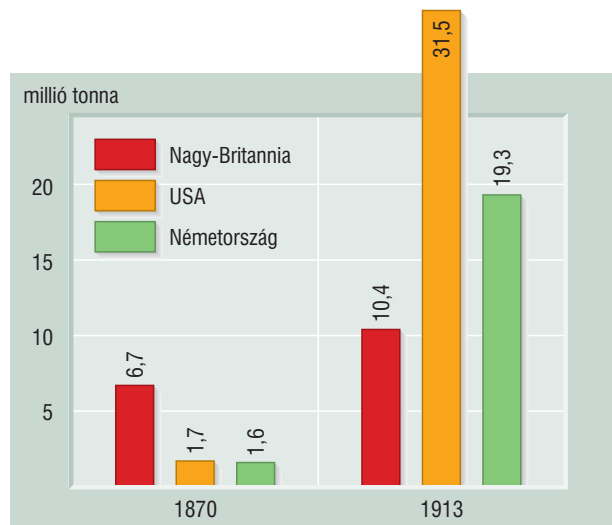
.....

d) Mi jelzi Nagy-Britannia 1870-es fölényét?

.....

e) Mi állítható a három legnagyobb termelő 1913-as adatairól?

.....



### 3. Eltérő

a) írógép, gőzmozdony, izzólámpa, zeppelin

.....

b) Edison, Ford, Morse, Bell

.....

c) szél, gőz, atom, víz

.....

#### 4. Számítalan

- A) Ebben a században robbant ki az első ipari forradalom. A = .....  
 B) A Titanic katasztrófájának évében a számjegyek összege. B = .....  
 C) Ennyi hengere volt a T-modell motorjának. C = .....  
 D) A telefonközpont feltalálójának vezetékneve ennyi betűből áll. D = .....

$$(A - (B + C)) \cdot D =$$

#### 5. Térldő 3D

mozaWeb: Nikola Tesla laboratóriuma (Shoreham, USA)

- a) Milyen származású volt Tesla?  
 .....  
 b) Melyik országban teljesedett ki a munkássága?  
 .....  
 c) Milyen különleges jelenséget produkálnak a Tesla-tekercek?  
 .....  
 d) Mire épült Tesla turbinájának működési elve?  
 .....  
 e) Milyen világméretű találmány szerepelt Tesla távlati terveiben? .....  
 f) Minek a mértékegységét nevezték el Tesláról? .....



A második ipari forradalom legfontosabb találmányairól sok 3D-jelenetet találsz a mozaWeben. Jó böngészést kívánok!



#### 6. HiányPótló

Név	Nemzetiség	Találmány
Thomas Alva Edison		
	amerikai	T-modell
Orville és Wilbur Wright		motoros repülő
		telefon
Samuel Finley Breese Morse	amerikai	

#### 7. KézzelFogható

Válaszd ki a 19. és a 20. század fordulójának egyik jellegzetes autómodelljét, és készítsd el a makettjét tetszőleges anyagok használatával, szabadon választott technikával! Rendezztek kiállítást az elkészült makettekből!

7	1.	5	2.	6	3.	5	4.	6	5.	7	6.	10	7.	Össz.
														46

# 14. Az ország fővárosa, Budapest

Használd az internetet! Keresd meg az egyes építmények tervezőjének nevét is!

Hazánk fővárosa rendkívül látványos fejlődésen ment keresztül a dualizmus időszakában. Az időgépből ülünk át az omnibuszra és a villamosra, és gyönyörködünk együtt a száz évvel ezelőtti Budapestben!



## 1. SorRendező

Téma: a dualizmus korában készült budapesti építmények átadásának éve


- |   |                                       |  |
|---|---------------------------------------|--|
| <input type="checkbox"/> Országház            | <input type="checkbox"/> Operaház     | <input type="checkbox"/> Margit híd    |
| <input type="checkbox"/> Szépművészeti Múzeum | <input type="checkbox"/> Halászbástya | <input type="checkbox"/> Szabadság híd |



## 2. Térldő 3D

mozaWeb: Az Oktogon a 20. század elején (Budapest)

- Mire utal a tér görög eredetű neve? .....
- Milyen meghajtóerő mozgatta az omnibuszokat? .....
- Melyik, az Oktogonnál is megálló közlekedési eszközt adták át 1896-ban? .....
- Milyen (bal vagy jobb) oldali közlekedés volt a dualizmus korában Budapesten (és Magyarországon)? .....
- Kiről kapta a nevét a Nagykörutat az Oktogonnál keresztező sugárút? .....
- Mivel világítottak a villanyvilágítás elterjedése előtt Budapest közterületein? .....



Fél évszázaddal korábban híres honfitársad, a meseíró Andersen is járt a fővárosban. Leírását *Utazás a Dunán* címmel találod meg. Vesd össze az általa látottakat a saját beszámolóddal!



## 3. Tudatos Tudathasadás

A személy: egy dán utazó.

Az esemény: budapesti városnézés 1910-ben. A feladat: élménybeszámoló írása.



## 4. TörtéNet

Nézz utána, hogy mikor jött létre Budapest címere! Nyomozd ki, hogy mit jelképeznek a címer egyes összetevői!



6	1.	6	2.	10	3.	10	4.
<input type="text"/>	<input type="text"/>	<input type="text"/>	<input type="text"/>	<input type="text"/>	<input type="text"/>	<input type="text"/>	<input type="text"/>

Össz.  
32

Hogy hívják ma az akkori Ferenc József hidat? Nézz utána, hogy hányadik volt a fővárosi hidak sorában!



# 15. A millennium

Mostani időutazásunk duplán különleges lesz. Egyrészt azért, mert szándékosan egy konkrét évből (1896-ba) ugrunk vissza. Másrészt a korabeli Magyar Királyság is egyfajta időutazáson vett részt abban az évben: az ország az államiség 1000. évfordulóját ünnepelte.

## 1. Hozzászólás

A 895-ben kezdődött ..... ezredik évfordulójára nagyszabású ünnepségsorozatot szerveztek az országban. Az ..... májusa és októbere között megünnepelt millennium eseményeinek központja a főváros, ..... volt. A Városligetben országos „ezredévi” kiállítást szerveztek, melyet kb. hatmillió látogató keresett fel. Budapest számos nagyszerű építménnyel is gazdagodott. Például ekkor adták át az uralkodóról elnevezett ..... hidat is. A közlekedést is modernizálták. Megkezdte működését a földalatti ..... is.



## 2. ForrásPont

„Nagy ünnepet ül most Magyarország: állami létének, a magyar nemzet itteni hazájában való megtelepedésének ezredéves ünnepét. Kinyílnak a szívek széles e hazában s csordultig megtelnek az öröm és büszkeség érzéseivel. Mert mind a kettőre elég okunk van: az örömről, hogy a jóságos Isten megengedte érniünk ezt az esztendőt; s a büszkeségről, hogy annyi vérszt, zivatart épen, megtörtlenül kiállottunk. [...] És most itt állunk, emelt homlokkal, fenn dobogó szívvel, ezeréves fejlődésünkre visszatekintve, kibeszélhetetlen hálával a Gondviselés iránt, hogy ünnepet üljünk. Az 500 000 magyarból nyolcmilliónyi nép, egy 18 millió lelket számláló ország leve; [...] nevét ismerik a földteke mindkét oldalán s nem retteggéssel említik többé, mint a IX-ik században, hanem tisztelettel, szeretettel.” (VASÁRNAPI UJSÁG, 1896. MÁJUS 3.)



- Húzd alá folytonos vonallal, hogy a szerző szerint mit ünnepel az ország!
- Miért lehet büszke magára a magyarság a szerző szerint? Húzd alá szaggatott vonallal!
- Mennyi volt az országban a nem magyar nemzetiségek létszáma? .....
- Hogyan tekintettek az európai népek a 9. században a magyarságra? .....
- Hogyan változott meg ez a 19. század végére? .....

## 3. Számítástan

- Ennyi évet késett a millennium a honfoglalás kezdetének 1000. évfordulójához képest. A = .....
- A millennium évében uralkodó király uralkodói sorszáma. B = .....
- Budapest előtt ennyi európai városban volt földalatti villamosvasút. C = .....
- Ennyi magyar tájrol hozott parasztházat állítottak fel a Városligetben. D = .....



$$D - (B + A) \cdot C =$$

## 4. MűvÉsszel

- Tervezz plakátot, amely a budapesti millenniumi ünnepségsorozatot népszerűsíti!
- Írj verset a millenniumról! A versed álljon három négysoros versszakból! Használj keresztrímeket!



5 **1.**  5 **2.**  4 **3.**  20 **3.**

**Össz.**  
34

## 52. Enyhülés és szembenállás

A hidegháború időszaka folyamatos hullámvázst mutatott a két superhatalom viszonyában. Lovagoljuk meg az 1960-as és 1970-es évtizedek hullámaint időgépünk segítségével!



### 1. HozzáSZÓlás

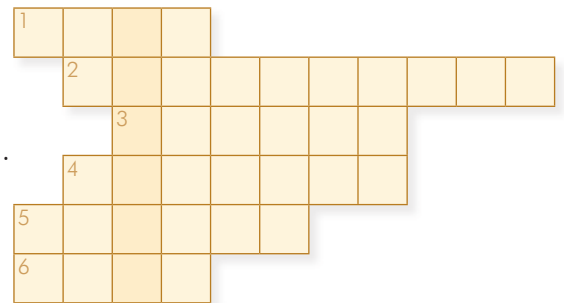
Sztálin halálát követően ..... lett a Szovjetunió vezetője. Csökkent a feszültség a superhatalmak között, így az időszakot enyhülésnek nevezzük. Tárgyalások kezdődtek, kialakult a békés ..... gondolata. Azonban később újra megnőtt a feszültség. ....-ben felépült a Nyugat-Berlint körülvevő fal. A következő évben pedig kirobbant a kubai ..... néven ismert konfliktus, ami a harmadik világháború kitörésével fenyegetett. A Szovjetunióknak a ..... blokk problémáival is meg kellett birkóznia. Az 1956-os magyarországi és az 1968-as ..... megmozdulásokat vérbe fojtotta a Vörös Hadsereg.



### 2. RejTett

a) Írd be a megfelelő szavakat a rejtvénybe!

1. Észak-atlanti Szerződés Szervezete (angol mozaikszó).
2. Európát kettéosztó határzár.
3. A kommunista tábor katonai szövetsége (... Szerződés).
4. Ezek sérthetlenségét (is) rögzítette a helsinki értekezlet záróokmánya.
5. Kuba kommunista vezetőjének vezetékneve.
6. Német Szövetségi Köztársaság (magyar mozaikszó).



b) Melyik város zaklatott 1968-as időszakára utal a megfejtés? .....



### 3. PárBaj

Írd be a fényképekhez a hozzá tartozó személynév és esemény betűjelét!




a) Brezsnyev

A) kubai rakétaválság



b) Kennedy

B) helsinki értekezlet



c) Ford



d) Hruscsov



### 4. KézzelFogható

Készítsd el a berlini fal egy szakaszát kartonpapírból!



A munka megkezdése előtt nézd meg a kapcsolódó 3D-jelenetet a mozaik-Weben, és készíts magadnak látványtervet!





# 53. A hidegháború vége

A folytatásban lavinaszerű változásoknak lehetünk szemtanúi. Olyan sorsfordító eseményeken lehetünk jelen, amelyek alapjaiban rengették meg a világot, és kihatással vannak napjainkra is.

## 1. Helyzetkép

a) Nevezd meg a fényképen látható két személyt! Írd a nevük mellé azt is, hogy melyik országot képviselték, és milyen minőségben!



A) .....

.....

B) .....

.....

b) Nevezd meg két csúcstalálkozó helyszínét, ahol mindketten megjelentek!

1. .... 2. ....

c) Miről írt alá szerződést a két vezető a Fehér Házban 1987 decemberében?

.....

## 2. Helyszínelők

a) Rajzold körbe kézzel Jugoszlávia, pirossal a Szovjetunió területét!

b) Írd rá a nevének kezdőbetűjét arra az országra, amely 1990-ben újraegyesült!

c) Írd le a fővárosának nevét a vonalra, majd jelöld X-szel a helyét a térképen!

.....

d) Írd rá az új országok nevének kezdőbetűit arra az országra, amely 1993-ban két részre szakadt!



## 3. SorRendező

Téma: a hidegháború végének fontos eseményei

- |   |   |
|---|---|
| <input type="checkbox"/> a Szovjetunió felbomlása   | <input type="checkbox"/> rendszerváltoztatások Közép-Európában  |
| <input type="checkbox"/> Németország újraegyesülése | <input type="checkbox"/> Jugoszlávia széthullásának kezdete     |
| <input type="checkbox"/> Csehszlovákia szétesése    | <input type="checkbox"/> a Szovjetunió bevonulása Afganisztánba |

Nyomozd ki, hogy Gorbacsov 1992-es beszéde szerint kinek a sikere volt a hidegháború lezárása!



## 4. MűÉsszel

Írj verset a közép-európai rendszerváltoztatásokról! Szentelj egy-egy versszakot minden érintett országnak! Használd páros rímeket!

9 **1.**  7 **2.**  6 **3.**  10 **4.**

**Össz.**  
32

## 56. A Rákosi-diktatúra

*A kommunista hatalomátvétellel egy szörnyű korszak köszöntött az országra, amelyben senki sem érezhette magát biztonságban. Utazzunk vissza ezekbe a vészterhes évekre, de vigyázzunk, ha megszólal a csengő!*



### 1. Kétesélyes Döntő

- I  H A kommunisták amerikai mintára teljesen átalakították a gazdaságot.
- I  H A magyar kommunisták több lépcsőben államosították a vállalatokat.
- I  H Rákosi a „vas és acél” országává szeretne volna alakítani az országot.
- I  H A nehézipar túlzott fejlesztése kedvezően hatott a mezőgazdaságra is.
- I  H A Tisza partján felépített Sztálinváros a rendszer egyik kirakatberuházása volt.
- I  H Az ellátási problémák miatt bevezették a jegyrendszert.
- I  H A mezőgazdaság kollektivizálásának keretében a parasztokat téeszekbe kényszerítették.
- I  H A rendszer ellenségeivel szemben az ÁVK lépett fel erőszakosan.



### 2. ForrásPont

*„Hirtelen kitarul az ajtó s azon Décsi lép be elsőként. Megáll előttem:*

*– Azért jöttünk, hogy letartóztassuk önt.*

*Ugyanekkor nyolc-tíz rendőrtiszt nyomul Décsi után a szobába, s amikor a rendőr alezredes szavai elhangznak, minden oldalról körülfognak. Amikor a letartóztatási végzést kérem tőlük, nyeglén odavetik, hogy nekik ilyenre nincs szükségük. Amikor pedig a bíboros különleges nemzetközi jogállására utaltam, Décsi fölényesen veti oda, hogy hazaárulókat, kémeket és valutaüzéreket az éber, demokratikus rendőrség akkor is kézre kerít, ha valaki bíborosi talárban van. Felszólított, hogy induljak el velük.” (RÉSZLET MINDSZENTY JÓZSEF EMLÉKIRATAIBÓL)*

- a) Kinek a letartóztatásáról szól a részlet? .....
- b) Kikhez hasonlította a rendőr alezredes a letartóztatott személyt? Húzd alá a szövegben!
- c) Milyen jelzőkkel illette a rendőrséget Décsi? Karikázd be a szövegben!
- d) Milyen ítélet született a letartóztatott személy perében? .....
- e) Milyen jelzót használunk a Rákosi-korszak ehhez hasonló pereire? .....



### 3. Eltérő

- a) beszolgáltatás, erőltetett iparosítás, téeszésítés, padlássöprés  
.....
- b) Rajk László, Gerő Ernő, Kádár János, Mindszenty József  
.....



### 4. Számtalan

- A) 1948-ban az ennyi munkásnál többet foglalkoztató gyárakat államosították. A = .....
- B) Rajk László kivégzésének évszámában a számjegyek összege. C = .....
- C) Rákosi ennyi éves volt a személyi kultusz csúcspontján. C = .....
- D) Ennyi évre szólt az 1950-ben induló gazdasági terv. D = .....

$$B \cdot D - A + C =$$

## 5. HelyzetKép

Tegyél X-et a fényképnél lévő négyzetbe, ha az erőltetett iparosításhoz kapcsolódik!



## 6. Térldő 3D

mozaWeb: Recsk

a) Melyik akkori megyében helyezkedett el a tábor?

.....

b) Mi volt a recski tábor gúnyneve?

.....

c) Melyik szerv emberei őrizték a tábort?

.....

d) Hol végeztek a rabok nehéz fizikai munkát?

.....

e) Kinek a miniszterelnöksége alatt számolták fel a tábort? .....

Nézd meg a Recskről szóló mozaweberes videót is! Derítsd ki, miért került a táborba a film főszereplője!



## 7. MűVÉsszel

a) Készíts Rákosi Mátyást dicsőítő színes plakátot! Rendeztetek az elkészült alkotásokból kiállítást!

b) Írj verset Rákosi Mátyásról! (Ragaszkodj a tényekhez, ne építsd a személyi kultuszt!) A vers álljon négy négysoros versszakból! Használj kecskerímeket (kínrímeket)!

Ihletet meríthettek a tervezéshez Bacsó Péter *A tanú* című filmjének jeleneteiből is.

## 8. HelySzínPad

Osszátok három csoportra az osztályt! Játsszatok el egy koncepciót, egy padlás-söprést és egy kommunista ünnepséget a Rákosi-korszakból! Írjatok listát a legfontosabb szerepekről! Beszéljétek meg közösen a szereplők szövegeit és a forgatókönyvet! Készítsetek fényképeket és videókat az „előadásokról”!



8	1.	5	2.	4	3.	5	4.	3	5.	5	6.	20	7.	10	8.	60	Össz.
---	----	---	----	---	----	---	----	---	----	---	----	----	----	----	----	----	-------

# Tartalomjegyzék

Előszó .....	3	<b>A Horthy-korszak</b>	
Útinaplód bejegyzései és útírársaid .....	4	30. Az őszirózsás forradalom .....	48
<b>A modern kor születése</b>		31. A Tanácsköztársaság .....	49
1. Az olasz egység létrejötte .....	6	32. Az ellenforradalom és Horthy hatalomra jutása .....	50
2. A német egység megteremtése .....	7	33. A trianoni béke .....	52
3. A 19. századi brit világbirodalom .....	8	34. A rendszer megszilárdulása .....	54
4. Az USA polgárháborúja .....	9	35. Válság és kiútkeresés .....	55
5. Az ipari forradalom térhódítása .....	10	36. A Harmadik Birodalom árnyékában .....	56
6. Az imperializmus kora .....	12	37. Társadalom és kultúra. A hétköznapi élet .....	57
7. A modern állam és polgárai .....	13	38. Magyarok a határon túl .....	58
Összefoglalás .....	14	Összefoglalás .....	60
<b>A dualizmus kora</b>		<b>A második világháború</b>	
8. Az önkényuralom évei .....	16	39. A villámháborúk időszaka .....	62
9. A kiegyezés .....	17	40. A hátszág élete .....	63
10. A dualizmus korának politikai változásai .....	18	41. A háború fegyverei .....	64
11. A magyar gazdaság fejlődése .....	19	42. Fordulat a háború menetében .....	66
12. Az Osztrák–Magyar Monarchia népei .....	20	43. Az antifasiszta koalíció győzelme .....	67
13. A polgárosodó társadalom .....	21	44. Az európai zsidóság tragédiája .....	68
14. Az ország fővárosa, Budapest .....	22	45. A semlegességtől a doni katasztrófaig .....	70
15. A millennium .....	23	46. Hazánk megszállása és a nyilas uralom .....	71
16. Az oktatás fejlődése .....	24	47. A háborús bűnösök .....	72
Összefoglalás .....	26	Összefoglalás .....	74
<b>Az első világháború és következményei</b>		<b>A megosztott világ</b>	
17. Az első világháború kitörése .....	28	48. A kétpólusú világ kialakulása .....	76
18. A frontok és a hátszág .....	29	49. A hidegháború kibontakozása .....	77
19. Az első világháború fegyverei .....	30	50. Az Európán kívüli világ .....	78
20. Az első világháború befejezése .....	32	51. Az űrverseny .....	79
21. Az oroszországi forradalom .....	33	52. Enyhülés és szembenállás .....	80
22. Magyarország az első világháborúban .....	34	53. A hidegháború vége .....	81
23. Európa az első világháború után .....	35	Összefoglalás .....	82
24. A Párizs környéki békék .....	36	<b>Magyarország szovjetizálása</b>	
Összefoglalás .....	38	54. Újrakezdés a háború után .....	84
<b>Totális diktatúrák</b>		55. Magyarország szovjetizálása .....	85
25. A békekötések után .....	40	56. A Rákosi-diktatúra .....	86
26. A sztálini Szovjetunió .....	41	57. Az államvédelmi szervek .....	88
27. A nagy gazdasági válság .....	42	58. Az „új szakasz” és kudarca .....	89
28. A Harmadik Birodalom .....	44	59. A magyar sport aranykora .....	90
29. Úton az újabb háború felé .....	45	Összefoglalás .....	92
Összefoglalás .....	46	IdőPontGyűjtő .....	94

Kiadja a Mozaik Kiadó, Szeged • Telefon: (62) 470-101, (62) 554-660

E-mail: kiado@mozaik.info.hu • Honlap: www.mozaik.info.hu • Felelős kiadó: Török Zoltán

Készült a Dürer Nyomda Kft.-ben, Gyulán • Felelős vezető: Aggod István

Terjedelem: 13,38 (A/5) ív • 2024. május • Tömeg: 314 g • Raktári szám: MS-2862U